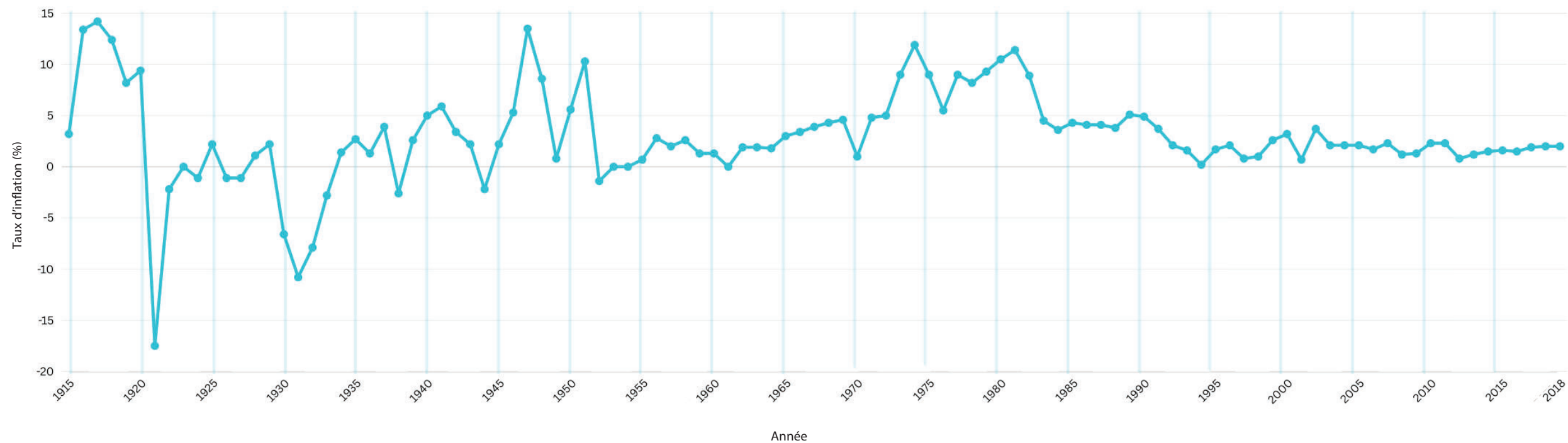


1 - L'inflation au fil des ans

« Le maintien de l'inflation à un niveau bas et prévisible permet aux Canadiennes et aux Canadiens de prendre des décisions pour leur avenir. »
- Dan, Banque du Canada



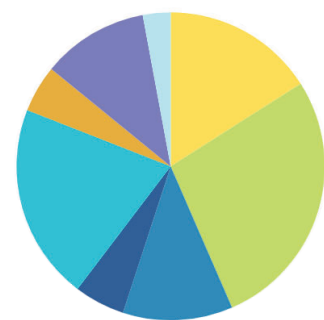
Sources : Statistique Canada et calculs de la Banque du Canada



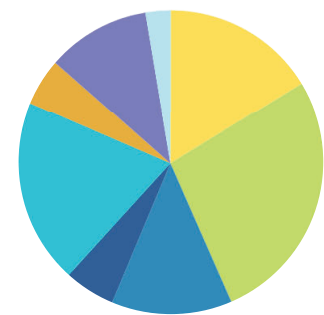
TRAVAIL PRÉLIMINAIRE

- 1 Indiquez les événements marquants de l'histoire suivants en traçant des lignes verticales à travers les pointes et les creux de ces périodes :
 - a. le début de la Grande Dépression en 1929
 - b. la fondation de la Banque du Canada en 1935
- 2 Indiquez les périodes suivantes sous le graphique :
 - a. l'étalon-or de 1915 à 1945
 - b. le système de Bretton Woods de 1945 à 1973
 - c. la cible d'inflation et les autres cadres de 1973 à 1991
 - d. la poursuite d'une cible de maîtrise de l'inflation de 1991 à 2020
- 3 En regardant les pointes et les creux du graphique, pouvez-vous repérer des récessions? On entend par récession un ralentissement dans la croissance économique. Arrivez-vous à en trouver cinq? Inscrivez « R » à côté de chacune d'entre elles.
- 4 Depuis 1991, la Banque vise un certain pourcentage d'inflation et établit une fourchette autour de ce pourcentage. En examinant les données, pouvez-vous déterminer ces pourcentages? Si cela s'avère utile, surlignez la zone centrale des données pour déterminer la fourchette de pourcentage.

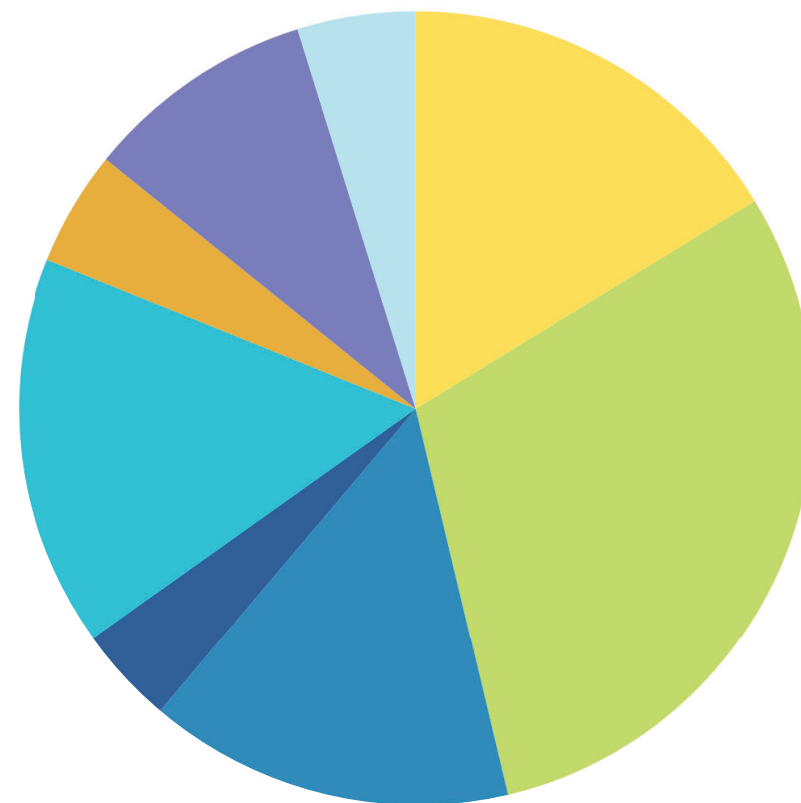
2 - Indice des prix à la consommation et poids des catégories par an



2010
IPC : 116,5



2015
IPC : 126,6



2020
IPC : 137,0









Source : d'après un tableau de Statistique Canada. 2024. Tableau 18-10-0004-01 Indice des prix à la consommation mensuel, non désaisonnalisé

« L'IPC est l'estimation la plus pertinente du coût de la vie pour les Canadiens et nous aide à cibler l'inflation.
- Patrick, Banque du Canada »



TRAVAIL PRÉLIMINAIRE

1 Statistique Canada attribue un poids mathématique, ou une valeur relative, à chacune des différentes catégories de biens et de services courants qui composent le panier de l'indice des prix à la consommation (IPC). Pouvez-vous deviner quelles catégories appartiennent à quelles pointes du diagramme circulaire en fonction de leur poids? Identifiez les pointes.

-  a. alcool, produits du tabac et cannabis récréatif
-  b. vêtements et chaussures
-  c. aliments
-  d. soins de santé et soins personnels
-  e. dépenses courantes, ameublement et équipement du ménage
-  f. loisirs, formation et lecture
-  g. logement
-  h. transports

2 Calculez les taux d'inflation de 2015 et 2020, et comparez-les à celui de 2010. Utilisez les chiffres de chacune de ces années et la formule ci-dessous. Indiquez les taux d'inflation à côté du diagramme circulaire pour montrer la hausse de l'inflation entre chaque période de cinq ans.

$$\text{Taux d'inflation} = \frac{(\text{IPC année 2} - \text{IPC année 1})}{\text{IPC année 1}} \times 100$$

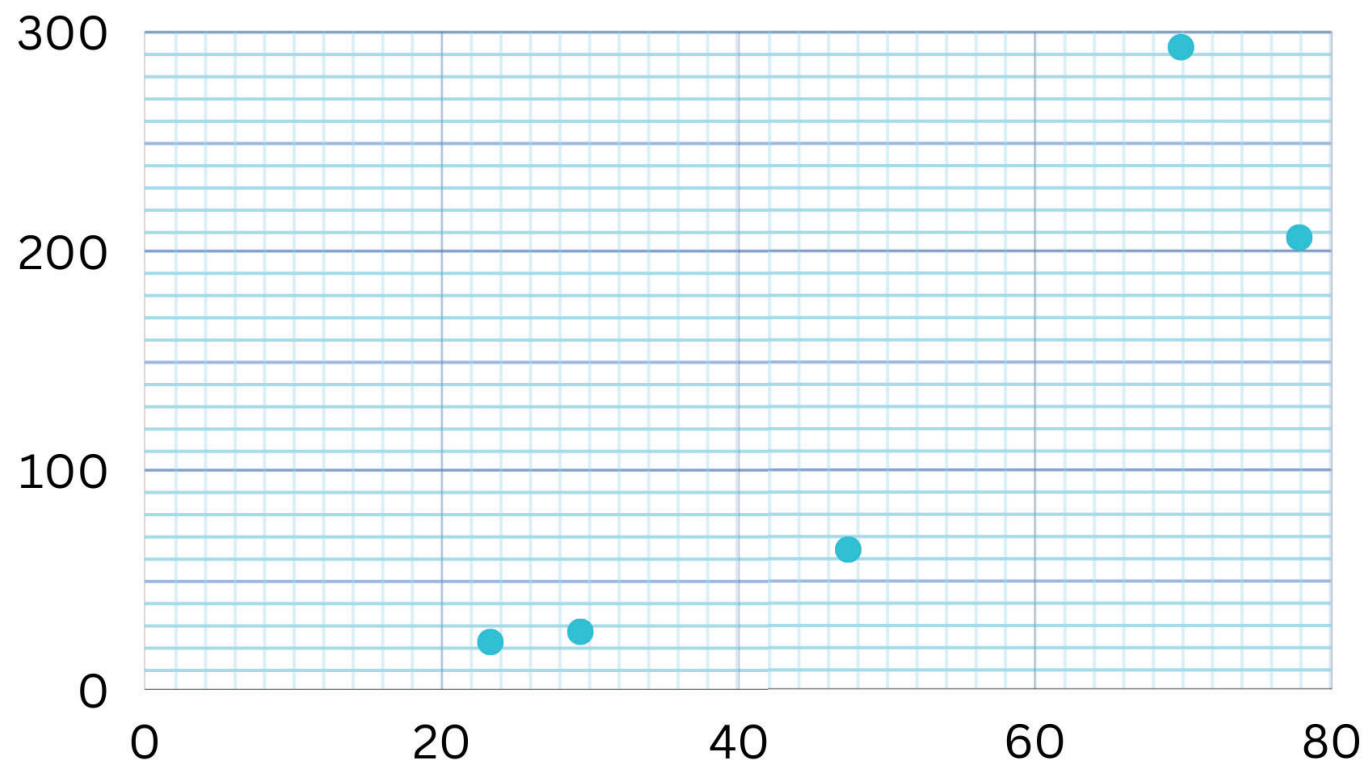
3 - Salaires et productivité

« Une productivité élevée permet d'améliorer le niveau de vie et de maintenir la compétitivité de l'économie.
- Tatjana, Banque du Canada »



TRAVAIL PRÉLIMINAIRE

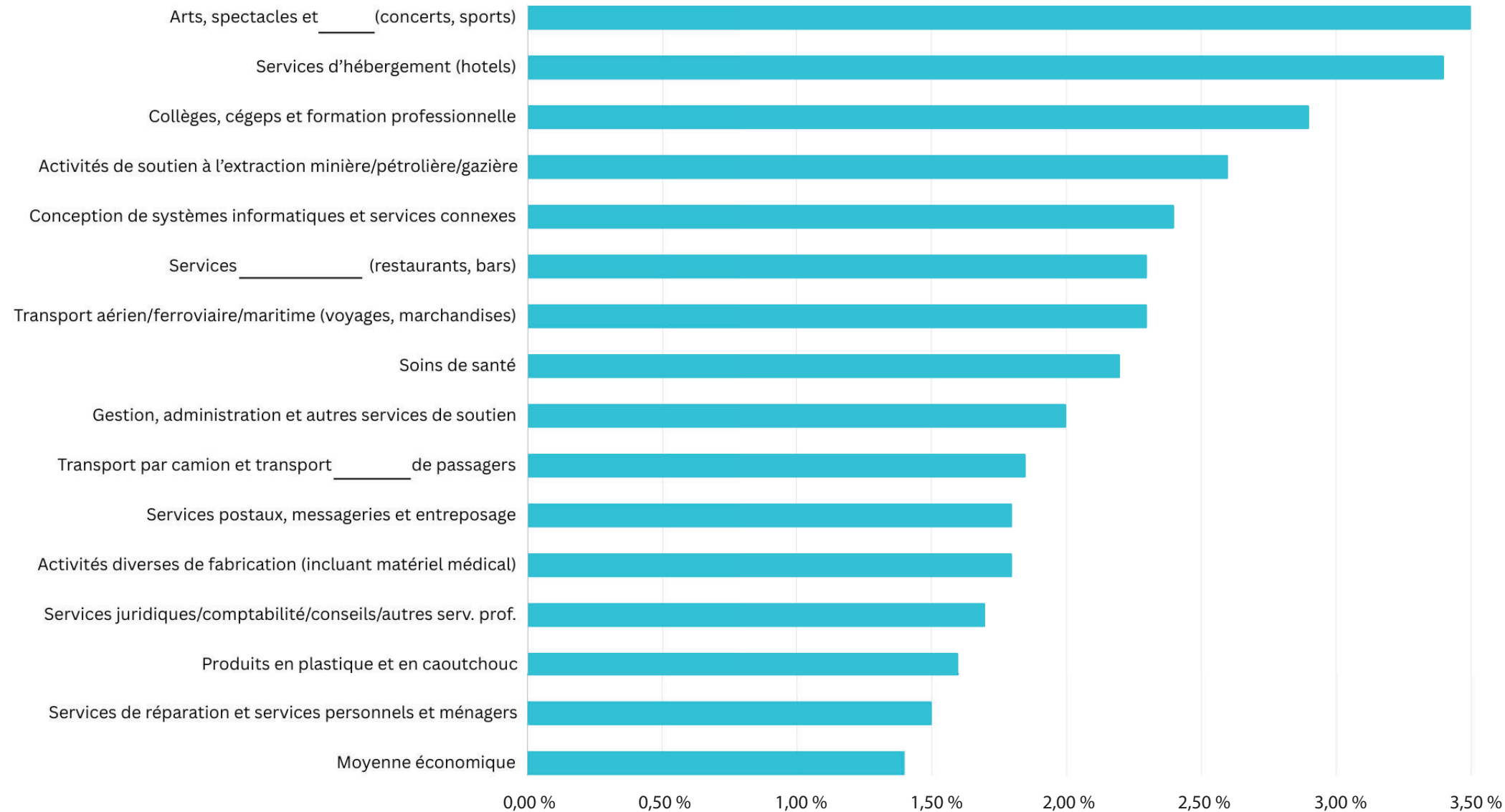
- 1 Sur l'axe des x et celui des y, inscrivez ce qui suit :
 - a. x : Rémunération globale par heure (\$)
 - b. y : Productivité du travail
- 2 Si par rémunération, on entend les salaires, et par productivité du travail, la mesure de ce que produit un travailleur, où placeriez-vous les travailleurs suivants dans le graphique? Ensuite, pensez aux secteurs d'activité de chaque emploi et inscrivez chacun d'eux à côté d'un point numéroté :
 - un serveur (restauration)
 - un constructeur automobile (fabrication)
 - un technicien de scène (arts, divertissement et loisirs)
 - un ingénieur électricien (services publics)
 - un géologue (extraction minière, pétrolière et gazière)
- 3 En utilisant une ligne droite, déterminez la rémunération et la productivité approximatives de chaque secteur d'activité que vous avez placé. Inscrivez ces montants à côté de chaque secteur.



Source : d'après un tableau de Statistique Canada. 2024. Tableau 36-10-0480-01 Productivité du travail et mesures connexes par industrie du secteur des entreprises et par activité non commerciale, conformes aux comptes des industries

4 - L'avenir du travail

Croissance (forte) de l'emploi par industrie, Projection 2022-2031



industries affichant une majorité de travailleurs de sexe féminin (plus de 50 % en 2021)

Source : Emploi et Développement social Canada. 2022. Système de projection des professions au Canada SPPC . Les ouvertures d'emploi (2022-2031)

« La formation de travailleurs pour qu'ils aient les bonnes compétences est essentielle pour la croissance et la prospérité du Canada à long terme. »
- Corinne, Banque du Canada »

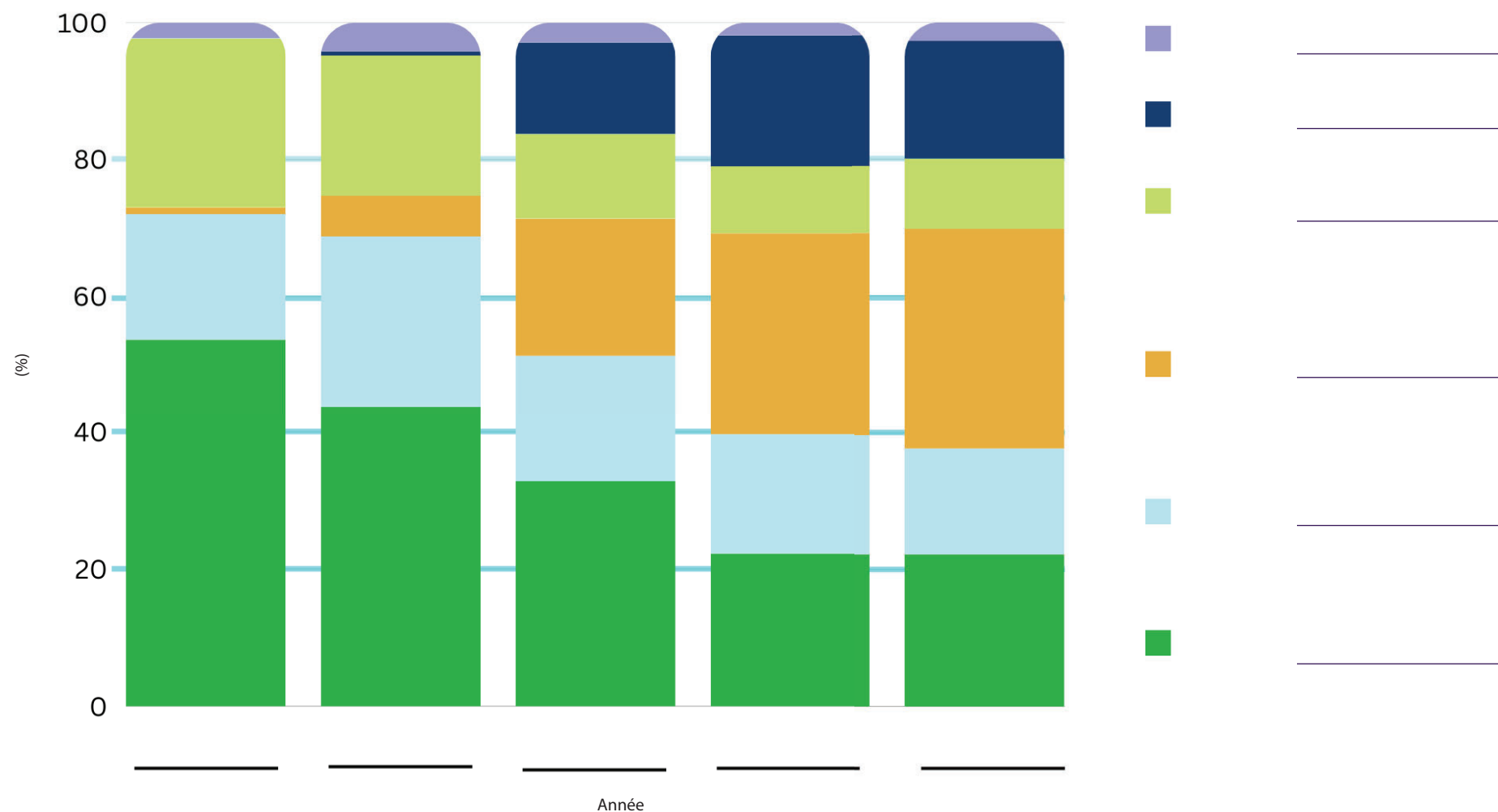


TRAVAIL PRÉLIMINAIRE

- 1 Entrez les mots manquants dans les noms de secteur.
- 2 Ajoutez la croissance moyenne prévue de l'emploi dans l'ensemble de l'économie (1,4 %) sous la forme d'une ligne horizontale s'étendant sur l'ensemble des données.
- 3 Six des quinze secteurs d'activité énumérés sont composés en majorité de femmes. Indiquez lesquels selon vous en utilisant le symbole ♀

5 - Utilisation de l'argent comptant

Titre : _____



Source : d'après un tableau de Statistique Canada. 2019. Enquête sur la sécurité financière



Comprendre la façon dont les Canadiens paient leurs achats aide la Banque à gérer l'approvisionnement en argent comptant de même que sa distribution.
- Karen, Banque du Canada



TRAVAIL PRÉLIMINAIRE

- 1 Indiquez les années suivantes sur l'axe des x. Inscrivez une année sous chaque ensemble de données, de gauche à droite: 2009, 2013, 2017, 2020 et 2021.

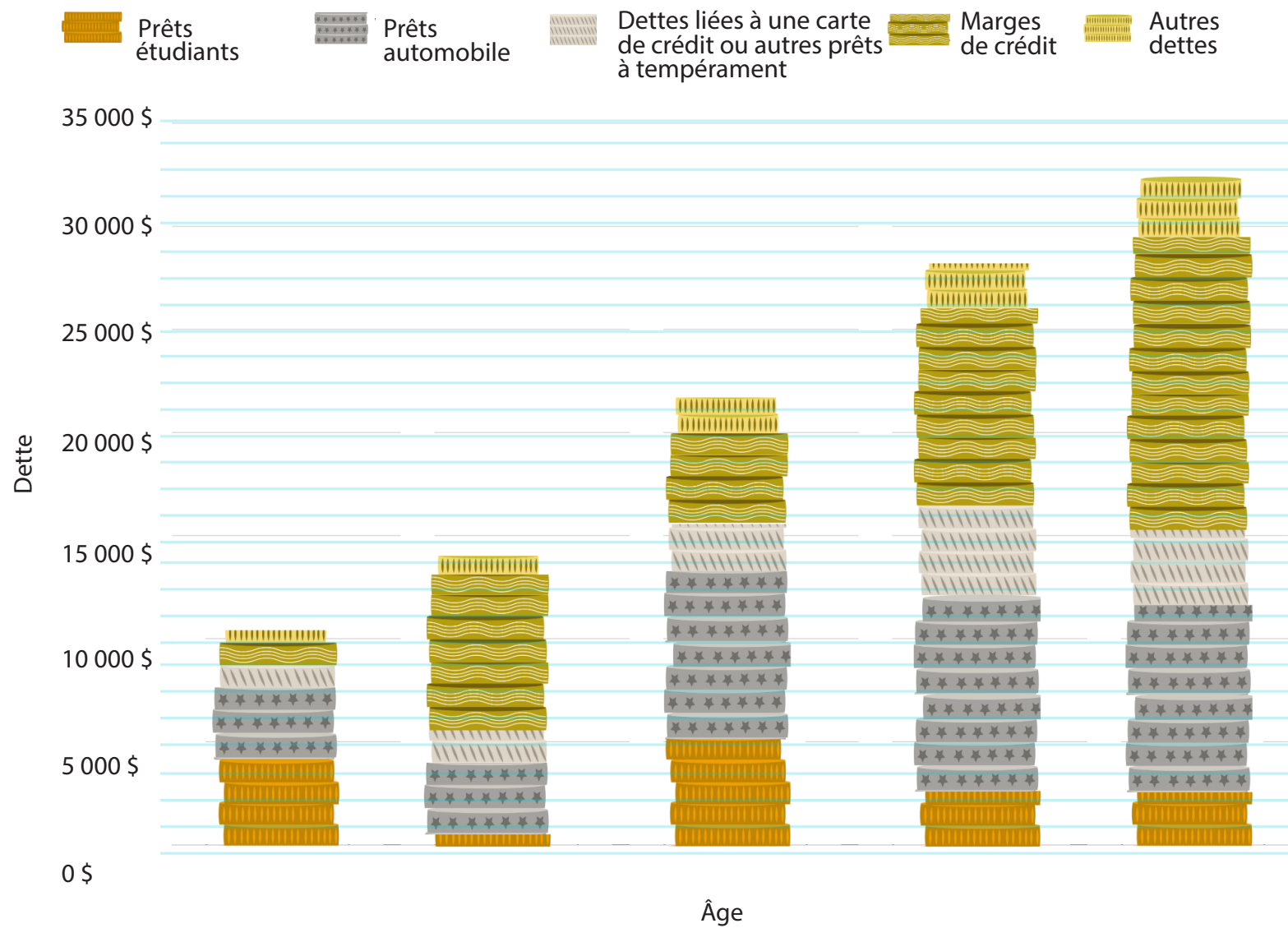
- 2 Chaque couleur de chaque graphique à barres représente un mode de paiement différent. Essayez d'identifier la couleur qui représente chaque mode, puis indiquez-le dans la légende. Les voici :
 - argent comptant
 - carte de crédit
 - carte de crédit avec fonction sans contact
 - carte de débit
 - carte de débit avec fonction sans contact
 - autre (paiements mobiles, cartes-cadeaux, chèques, etc.)
- 3 Intitulez le graphique en fonction de votre analyse des données.

6 - Endettement

« La stabilité financière est menacée quand les ménages ne peuvent pas rembourser leurs dettes »
- Louis, Banque du Canada »



Titre :



TRAVAIL PRÉLIMINAIRE

- 1 Chaque pièce représente une valeur de 1 000 \$. Indiquez le montant total en dollars de chacune des piles de pièces (c'est-à-dire des barres du graphique).
- 2 Quel groupe d'âge attribueriez-vous à chaque pile de pièces (chaque barre)? Le long de l'axe des x, inscrivez les groupes suivants :
 - Moins de 25 ans
 - 25-34 ans
 - 35-49 ans
 - 50-59 ans
 - 60 ans et plus
- 3 Quel titre donneriez-vous à ce graphique?

Source : Henry, C., M. Shimoda et J. Zhu. 2022. Rapport relatif à l'enquête sur les modes de paiement de 2021. Document d'analyse du personnel 2022-23 de la Banque du Canada.